

Löse auf dem Blatt!

1 $10 + 20 + 30 = \underline{\quad}$
 $30 + 30 + 30 = \underline{\quad}$
 $40 + 20 + 30 = \underline{\quad}$

$20 + 10 + \square = 60$
 $10 + 50 + \square = 80$
 $30 + 50 + \square = 90$

$20 + \square + 20 = 50$
 $20 + \square + 30 = 70$
 $10 + \square + 40 = 90$

2 $40 - 20 - 10 = \underline{\quad}$
 $80 - 30 - 20 = \underline{\quad}$
 $70 - 20 - 30 = \underline{\quad}$

$60 - 10 - \square = 10$
 $90 - 40 - \square = 30$
 $70 - 50 - \square = 0$



$50 - \square - 20 = 20$
 $80 - \square - 10 = 20$
 $90 - \square - 60 = 20$

3 In einer Packung sind 10 Stifte. Katja kauft 2 Packungen.
 Katja kauft $\underline{\quad}$ Stifte.

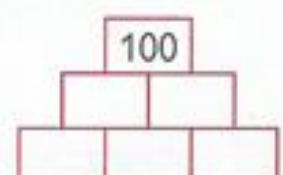
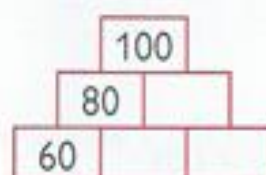
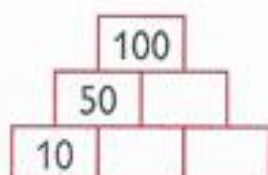
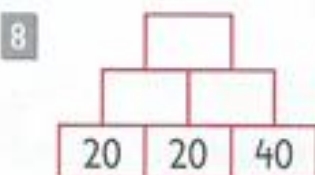


4 Opa ist 60 Jahre alt.
 Er ist 20 Jahre älter als Tante Andrea.
 Andrea ist $\underline{\quad}$ Jahre alt.

5 In der Schule sind 100 Kinder.
 60 davon sind Mädchen.
 In der Schule sind $\underline{\quad}$ Buben.

6 Franz hat 80 Fußballkarten.
 Josef hat nur halb so viele.

7 Julian ist am Wochenende 20 km geradelt.
 Anna hat das Doppelte geschafft!



9 Zauberdreieck
 Die drei Zahlen einer Dreieckseite ergeben zusammen die Zauberzahl.

