







1 Schreibe oder zeichne die Uhrzeiten ein!



<p>1 Uhr</p>  <p>13:00</p>	<p>___ Uhr</p>  <p>17:00</p>	<p>___ Uhr</p>  <p><input type="text"/></p>
<p>20 Uhr</p>  <p><input type="text"/></p>	<p>3 Uhr</p>  <p><input type="text"/></p>	<p>___ Uhr</p>  <p><input type="text"/></p>



2 Wie viele Stunden sind vergangen?



Leni ist auf einer Geburtstagsfeier.




Sie dauert \_\_\_ Stunden.

Severin geht wandern.

12:00 → 

Er wandert \_\_\_ Stunden lang.

Zahra liest ein Buch.


 → 

Sie liest \_\_\_ Stunden lang.

Ab 11 Uhr schläft Baby Laura für 2 Stunden.

 → 

Luis bekommt eine Brille.

11:00 → 

Der Arztbesuch dauert \_\_\_ Stunden.

Reiko spielt mit Papa Schach.

19:00 → 

Sie spielen \_\_\_ Stunden lang.