

# Malsätzchen und Insätzchen

von

5

mit

## Heinrich dem Hirsch

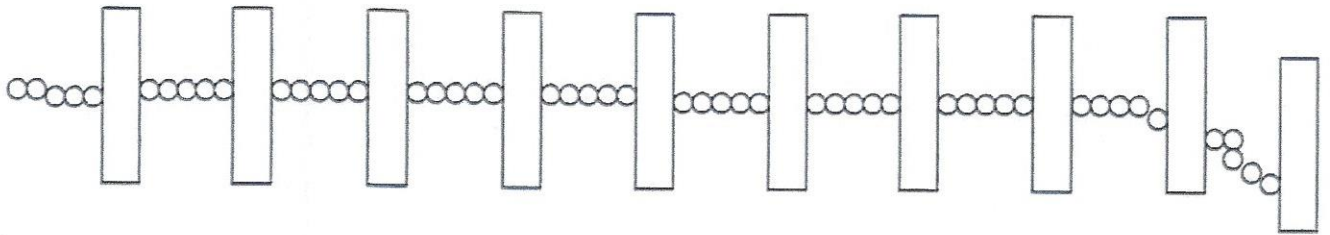


Er springt fünfmal so weit wie sein Körper lang ist.

Name: \_\_\_\_\_  
Datum: \_\_\_\_\_



Stecke an der Perlenkette und lerne die Malreihe gut!  
 Male die Perlen hellblau an und trage die trage die Fünferreihe ein!



Arbeite mit dem Multiplikationsbrett oder mit den Perlenstäben!

$1 \cdot 5 = \square$

$3 \cdot 5 = \square$

$2 \cdot 5 = \square$

$6 \cdot 5 = \square$

$4 \cdot 5 = \square$

$8 \cdot 5 = \square$

$7 \cdot 5 = \square$


$9 \cdot 5 = \square$

$5 \cdot 5 = \square$

$10 \cdot 5 = \square$

$0 \cdot 5 = \square$

Welche Zahlen gehören zur Fünferreihe?



Name: \_\_\_\_\_  
 Datum: \_\_\_\_\_



Lege mit den Perlenstäben folgende Beispiele!

$15 = 3 \cdot 5$

$30 = \square \cdot 5$

$45 = \square \cdot 5$

$15 = 5 \cdot 3$

$30 = \square \cdot \square$

$45 = \square \cdot \square$

$25 = \square \cdot 5$

$5 = \square \cdot 5$

$35 = \square \cdot 5$

$5 = \square \cdot \square$

$35 = \square \cdot \square$

Male in die Tabelle!

1	2	3	4	5	6	7	8	9	10
○									
○									
○									
○									
○									
5									

Welche Malsätzchen ergeben das gleiche Ergebnis?

$20$     $50$     $10$     $30$     $40$

$2 \cdot 10$   
 $6 \cdot 5$

$3 \cdot 10$     $8 \cdot 5$     $2 \cdot 5$     $1 \cdot 10$     $5 \cdot 10$     $4 \cdot 5$     $10 \cdot 5$     $4 \cdot 10$

Name: \_\_\_\_\_  
Datum: \_\_\_\_\_



Klebe die passenden Ergebnisse dazu!



$1 \cdot 5 =$	
$2 \cdot 5 =$	
$3 \cdot 5 =$	
$4 \cdot 5 =$	
$5 \cdot 5 =$	


$6 \cdot 5 =$	
$7 \cdot 5 =$	
$8 \cdot 5 =$	
$9 \cdot 5 =$	
$10 \cdot 5 =$	

$9 \cdot 5 =$	$5 \cdot 5 =$	$7 \cdot 5 =$	$1 \cdot 5 =$	$4 \cdot 5 =$
$6 \cdot 5 =$	$10 \cdot 5 =$	$2 \cdot 5 =$	$3 \cdot 5 =$	$8 \cdot 5 =$

Name: \_\_\_\_\_  
Datum: \_\_\_\_\_



4



5	30
10	35
15	40
20	45
25	50

Nimm das Divisionsbrett!

Teile die Menge gerecht auf!

$5 : 5 = \square$

$15 : 5 = \square$

$10 : 5 = \square$

$30 : 5 = \square$

$20 : 5 = \square$

$45 : 5 = \square$

$40 : 5 = \square$

$25 : 5 = \square$

$50 : 5 = \square$

$35 : 5 = \square$

Verbinde richtig!

$30 : 5 \rightarrow$



$\rightarrow 15 : 5$

$45 : 5 \rightarrow$

$\rightarrow 40 : 5$

$5 : 5 \rightarrow$



$\rightarrow 20 : 5$

$25 : 5 \rightarrow$

$\rightarrow 35 : 5$

$10 : 5 \rightarrow$




$\rightarrow 50 : 5$

Eine Rechnung für besonders Schlaue!

Fünf Kinder helfen bei der Apfelernte.  
Als Belohnung bekommen sie 30 Äpfel  
geschenkt. Sie teilen gerecht. Wie viel bekommt  
jeder?

Rechnung: \_\_\_\_\_

Antwort: \_\_\_\_\_



Name: \_\_\_\_\_  
Datum: \_\_\_\_\_

